

Misure di dispersione (o di variabilità)

- Range
- Distanza interquartile
- Deviazione standard
- Coefficiente di variazione

Misure di dispersione

- 27 28 29 30 31
- 9 18 23 45 50

$$\bar{x} = 29$$

- range=31-27=4

$$\bar{x} = 29$$

- range=50-9=41

- Ma anche il range ha dei limiti

RANGE (CAMPO DI VARIAZIONE)

$$\text{Range} = x_{\max} - x_{\min}$$

differenza tra il valore massimo e il valore minimo osservati

- ✓ Si basa soltanto sui valori estremi della distribuzione e non tiene conto dei valori intermedi
- ✓ E' molto influenzato da osservazioni anomale (*outliers*)



DISTANZA INTERQUARTILE

$$\text{IQR} = Q_3 - Q_1$$

differenza tra il III°quartile (Q3) ed il I°quartile (Q1)

- ✓ In questo intervallo ricade la metà dei valori osservati, posta esattamente al centro della distribuzione.
- ✓ Non è influenzata da osservazioni anomale o estreme.





**esempio: Statura matricole della Facoltà di Medicina
(A.A. 95/96)**

Range = $x_{\max} - x_{\min} = 193 - 162 = 31$ cm

MASCHI

Statura Cumul.	Freq.	
162	1	1
168	1	2
169	1	3
170	3	6
172	2	8
174	2	10
175	5	15
176	3	18
177	3	21
178	3	24
179	1	25
181	1	26
182	2	28
183	2	30
184	1	31
188	1	32
192	1	33
193	1	34
Totale	34	

<p><u>Calcolo del I° quartile :</u> (rango percentilico = 25)</p> <p>1. rango = $(34+1) * 25 / 100$ $= 35 / 4 \approx 9$</p> <p>2. I° quartile = 174 cm</p>	<p><u>Calcolo del III° quartile :</u> (rango percentilico = 75)</p> <p>1. rango = $(34+1) * 75 / 100$ $= 35 * 3 / 4 \approx 26$</p> <p>2. III° quartile = 181 cm</p>
--	---


IQR = Q3 - Q1 = 181 - 174 = 7 cm

mediana (range) = 176 (162-193) cm
mediana (IQR) = 176 (174-181) cm




la variabile d'interesse è l'ALTEZZA

UNA POPOLAZIONE CON MOLTA VARIABILITÀ



UNA POPOLAZIONE CON POCA VARIABILITÀ



Calcolo della deviazione standard del volume plasmatico di 8 adulti maschi sani. Media, $\bar{x}=3.00$

Volume plasmatico x	Deviazione Dalla media $x - \bar{x}$	Deviazione al quadrato $(x - \bar{x})^2$	Osservazione elevata al quadrato x^2
2.75	-0.25	0.0625	7.5625
2.86	-0.14	0.0196	8.1796
3.37	0.37	0.1369	11.3569
2.76	-0.24	0.0576	7.6176
2.62	-0.38	0.1444	6.8644
3.49	0.49	0.2401	12.1801
3.05	0.05	0.0025	9.3025
3.12	0.12	0.0144	9.7344
<i>Totali</i> 24.02	<i>Totali</i> 0.00	<i>Totali</i> 0.6780	<i>Totali</i> 72.7980

ESEMPIO VOLUME PLASMATICO DI 8 MASCHI ADULTI SANI

DEVIANZA

$$\sum (x - \bar{x})^2 = 0,6780$$

VARIANZA s^2

$$s^2 = \frac{\text{devianza}}{N - 1} = \frac{0,6780}{7} = 0,0969 l^2$$

DEVIAZIONE STANDARD s

$$s = \sqrt{0,0969} = 0,311 l$$

DEVIANZA

$$\sum (x - \bar{x})^2$$

VARIANZA s^2

$$s^2 = \frac{\sum (x - \bar{x})^2}{N - 1}$$

DEVIATION STANDARD s

$$s = \sqrt{\text{VARIANZA}} = \sqrt{\frac{\sum (x - \bar{x})^2}{N - 1}}$$

ESEMPIO: La seguente tabella mostra le ore di sollievo dovute a due differenti farmaci somministrati consecutivamente a pazienti che soffrono di artrite

Paziente	Farmaco A	Farmaco B
1	2.0	3.5
2	3.6	5.7
3	2.6	2.9
4	2.6	2.4
5	7.3	9.9
6	3.4	3.3
7	14.9	16.7
8	6.6	6.0
9	2.3	3.8
10	2.0	4.0
11	6.8	9.1
12	8.5	20.9

1) CALCOLARE LA MEDIA NELLE ORE DI SOLLIEVO DATE DAI DUE FARMACI

$$A: X = (2.0+3.6+2.6...+8.5) / 12 = 5.22$$

$$B: X = 7.35$$

2) CALCOLARE LA DEVIANZA:

$$A: \sum (x - X)^2 = (2.0 - 5.22)^2 + (3.6 - 5.22)^2 + (2.6 - 5.22)^2 + \dots + (8.5 - 5.22)^2 = 162.12$$

$$B : \sum (X - X)^2 = 384.49$$

3) CALCOLARE LA VARIANZA

$$A : \sum (X - X)^2 / (N - 1) = 132.12 / 11 = 14.74 = S_A^2$$

$$B : \sum (X - X)^2 / (N - 1) = 384.49 / 11 = 34.95 = S_B^2$$

4) CALCOLARE LA DEVIAZIONE STANDARD

$$A : s = \text{radq} \left(\sum (x - x)^2 / (N - 1) \right) = \text{radq} (14.74) = 3.84 = S_A$$

$$B : s = \text{radq} \left(\sum (x - x)^2 / (N - 1) \right) = \text{radq} (34.95) = 5.91 = S_B$$

5) CALCOLARE L'INTERVALLO DI VARIAZIONE E RANGE DELLA VARIABILE ORE DI SOLLIEVO PER I DUE FARMACI

	FARMACO A	FARMACO B
RANGE	14.9-2=12.9	20.9-2.4=18.5

In alcune situazioni il confronto della variabilità all'interno di due gruppi di osservazioni utilizzando la deviazione standard è fuorviante

Due variabili diverse:

In 91 ragazze matricole di Medicina a Verona nell'A.A. 95/96,
la media del **peso** era pari a **55.1 Kg** e la deviazione standard era pari a **5.7 Kg**,
la media della **statura** era pari a **166.1 cm** e la deviazione standard era pari a **6.1 cm**.

E' maggiore la variabilità del peso o la variabilità della statura?

1. Le variabili misurate nei due gruppi sono diverse (le osservazioni nei due gruppi sono espresse con diverse unità di misura)




Due gruppi con valori medi molto distanti

Tre neonati pesano rispettivamente **3, 4 e 5 Kg** (media = **4 Kg**; dev.st. = **1 Kg**).

Tre bambini di 1 anno pesano **10, 11 e 12 Kg** (media = **11 Kg**; dev.st. = **1 Kg**).

La deviazione standard è uguale nei due gruppi, ma il buon senso suggerisce che la variabilità del peso sia maggiore nei neonati.

1. La variabile misurata è la stessa ma i valori medi delle osservazioni nei due gruppi sono molto distanti (le osservazioni nei due gruppi sono su diversi ordini di grandezza)



COEFFICIENTE DI VARIAZIONE PERCENTUALE

$$CV\% = (\text{deviazione standard} / \text{media}) * 100\%$$

Ci permette di misurare la variabilità **indipendentemente** dalla grandezza e dalla scala di misura delle osservazioni

	Media	Dev. standard	CV
Neonati	4 Kg	1 Kg	25.0 %
Bambini 1 anno	11 Kg	1 Kg	9.1 %

La variabilità del peso è maggiore nei neonati.

	Media	Dev. standard	CV
Peso	55.1 Kg	5.7 Kg	10.3 %
Statura	166.1 cm	6.1 cm	3.7 %

La variabilità del peso è maggiore della variabilità della statura.



Esempio di confronto tra variabilità

Nell' ipotesi di aver riscontrato in un gruppo di soggetti i seguenti valori

glicemia: $\bar{x} = 85 \text{ mg} / 100 \text{ ml}$

$s = 11 \text{ mg} / 100 \text{ ml}$,

calcemia: $\bar{x} = 9 \text{ mg} / 100 \text{ ml}$

$s = 1,5 \text{ mg} / 100 \text{ ml}$,

non è corretto considerare più dispersa la variabile glicemia che presenta una deviazione standard circa dieci volte maggiore.

Il confronto deve essere effettuato tramite i CV % :

glicemia: $CV \% = \frac{11 \text{ mg} / 100 \text{ ml}}{85 \text{ mg} / 100 \text{ ml}} \cdot 100 = 12,9\%$

calcemia: $CV \% = \frac{1,5 \text{ mg} / 100 \text{ ml}}{9 \text{ mg} / 100 \text{ ml}} \cdot 100 = 16,7\%$

In realtà, in base alle misure ottenute risulta più dispersa, anche se di poco, la calcemia

ESEMPIO

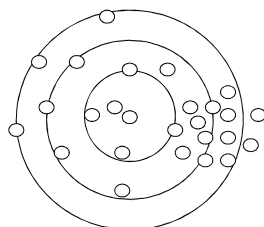
Per valutare l' attendibilità di due metodi (A e B) per la determinazione del colesterolo sierico, un siero standard a concentrazione nota di colesterolo, pari a 180 mg/dl, viene misurato 100 volte con ognuno dei due metodi.

Le medie e le deviazioni standard delle determinazioni sono rispettivamente:

per A: media 178 mg/dl, ds=2 mg/dl

per B: media 179.2 mg/dl, ds=4 mg/dl

Quale dei due metodi è più preciso?



< ds \rightleftarrows > precisione

A + precisa

B + accurata, si avvicina di più al valore vero

Misure di posizione e di dispersione: simbologia



popolazione

campione

μ = media

stimata da \bar{x}

σ^2 = varianza

stimata da s^2

σ = deviazione standard

stimata da s



1. Si hanno i pesi (kg) alla nascita di 10 bambini:

3,5 4,2 3,2 2,9 4,0 3,5 3,1 3,0 3,9 4,1

- Calcolare media, moda, mediana del peso dei 10 neonati.
- Calcolare range e deviazione standard del peso dei 10 neonati.

2. 50 neonati presentavano un peso medio di 3,8 kg e 10 neonate un peso medio di 3,0 kg. Qual è il peso medio dei 60 neonati?

FREQUENZE ASSOLUTE E RELATIVE DEI LIVELLI DI COLESTEROLO SIERICO IN 2.294 SOGGETTI
 DELLA POPOLAZIONE MASCHILE DEGLI STATI UNITI, 1976 - 1980
 RAPPRESENTAZIONE GRAFICA TRAMITE POLIGONI DI FREQUENZA
 ENTRAMBI SULLO STESSO GRAFICO.

X Livello di colesterolo (mg / 100 ml)	Età 25 - 34		Età 55 - 64	
	Numero di soggetti	Frequenza relativa (%)	Numero di soggetti	Frequenza relativa (%)
80-119	13	1,2	5	0,4
120-159	150	14,1	48	3,9
160-199	442	41,4	265	21,6
200-239	299	28,0	458	37,3
240-279	115	10,8	281	22,9
280-319	34	3,2	128	10,4
320-359	9	0,8	35	2,9
360-399	5	0,5	7	0,6
TOTALE	1.067	100,0	1.227	100,0

FREQUENZE RELATIVE E FREQUENZE RELATIVE CUMULATIVE DEI LIVELLI DI COLESTEROLO
 SIERICO IN 2.294 SOGGETTI DELLA POPOLAZIONE MASCHILE DEGLI STATI UNITI, 1976 - 1980

Livello di colesterolo (mg / 100 ml)	Età 25 - 34		Età 55 - 64	
	Frequenza relativa (%)	Frequenza relativa cumulativa (%)	Frequenza relativa (%)	Frequenza relativa cumulativa (%)
80-100	1,2	1,2	0,4	0,4
120-159	14,1	15,3	3,9	4,3
160-199	41,4	56,7	21,6	25,9
200-239	28,0	84,7	37,3	63,2
240-279	10,8	95,5	22,9	86,1
280-319	3,2	98,7	10,4	96,5
320-359	0,8	99,5	2,9	99,4
360-399	0,5	100,0	0,6	100,0

**Misure di sintesi del livello di colesterolo sierico in
2294 soggetti
della popolazione maschile statunitense**

Età 25 - 34 anni

Classe modale (160 - 199) mg/100 ml

Classe mediana (160 - 199) mg/100 ml

$$\bar{x} = 199,3$$

$$s = 43,9 \text{ mg} / 100 \text{ ml}$$

$$CV \% = 22,0\%$$

Età 55 - 64 anni

Classe modale (200 - 239) mg/100 ml

Classe mediana (200 - 239) mg/100 ml

$$\bar{X} = 229,7$$

$$s = 46,4 \text{ mg} / 100 \text{ ml}$$

$$CV \% = 20,2\%$$

Tabella 1 - Caratteristiche generali della popolazione.

N (%)	Principio attivo N=131 (48.5)	Placebo N=139 (51.5)
Maschi	35 (27.5)	51 (36.7)
Età (media ± ds)	83.1 ± 10.4	84.6 ± 9.8
Sede di assistenza		
Ospedale	60 (45.0)	61 (43.0)
RSA	15 (11.5)	14 (10.1)
Distretto	57 (43.5)	64 (46.0)
Diagnosi principale		
Ictus	19 (16.5)	27 (19.4)
Demenza	15 (12.2)	27 (19.4)
Cardiopatie	20 (15.2)	16 (11.5)
Malattia respiratorie	13 (9.9)	15 (10.8)
Cancro	15 (11.4)	6 (4.3)
Traumi	13 (9.9)	6 (4.3)
Malattie neurologiche	5 (4.5)	10 (7.1)
Altro	27 (20.6)	32 (23.2)
Purteggio Norton* (media ± DS)	10.1 ± 3.7	8.9 ± 3.2
Presidi antidecubito	97 (74.1)	113 (81.3)
Cambi di postura	120 (91.6)	121 (84.2)
N. totale di lesioni per paziente (media ± ds)	1.9 ± 1.3	1.7 ± 1.1
Pez con 1 lesione	57 (51.2)	79 (56.8)
Pez con 2-3 lesioni	50 (30.2)	40 (34.5)
Pez con >3 lesioni	14 (10.7)	12 (8.6)

* p 0.05. Le altre differenze non sono statisticamente significative